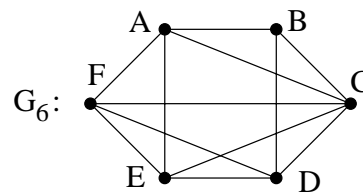


Feuille d'exercices n° 8

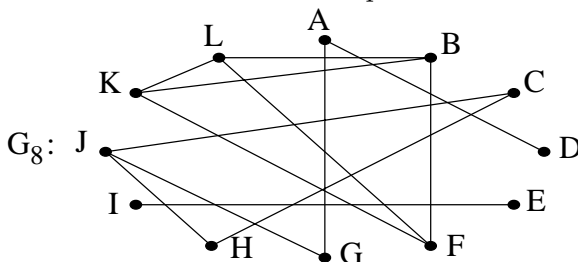
Exercice 1. On se place dans le graphe G_6 (ci-contre).

- a) Donner 2 chemins de longueurs différentes allant de A à D. Donner un chemin fermé passant par A
- b) ABCDBA désigne-t-il un chemin ? si oui, donner sa longueur et dire si c'est un chemin simple. Même question pour ABEFA et ACEABDEFA.



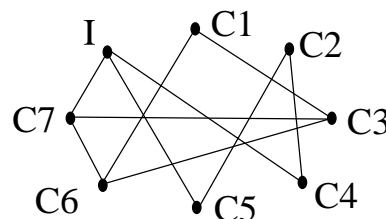
Exercice 2.

Le graphe G_8 ci-dessous est-il connexe ? Trouver la composante connexe de chaque sommet.

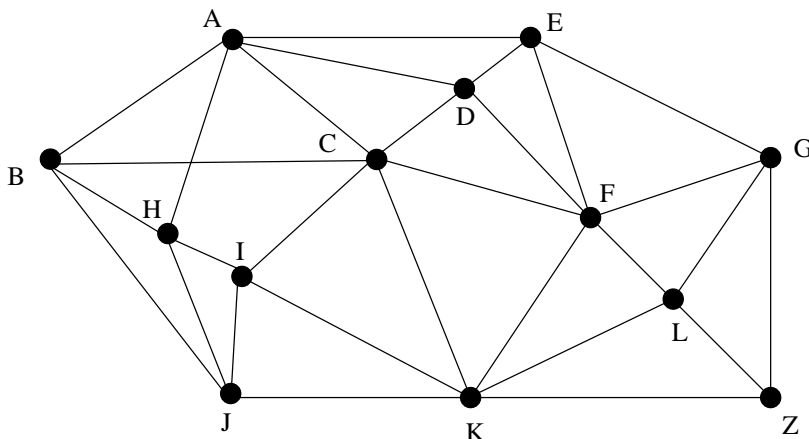


Exercice 3.

Un réseau informatique est composé de 7 ordinateurs (appelés C_1, \dots, C_7) et d'une imprimante (appelée I), reliés par des câbles. Ce réseau est représenté par le graphe ci-contre. Si on retire le câble entre l'ordinateur C_4 et l'imprimante I, peut-on accéder à l'imprimante via le réseau à partir de n'importe quel ordinateur ? Même question avec le câble entre C_7 et I.

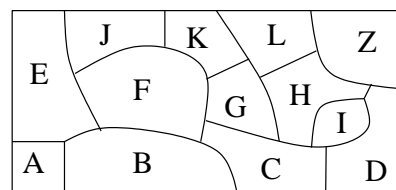


Exercice 4. Le graphe suivant représente un réseau de bus : les sommets sont des arrêts de bus et les arêtes représentent des liaisons directes en bus. Quel est le nombre minimum de bus qu'il faut prendre pour aller de B à Z ? Donner un itinéraire réalisant ce nombre de bus.



Exercice 5. Le dessin ci-contre représente différents pays sur une île. Le héros, dans le pays A, veut aller dans le pays Z pour délivrer la princesse, sans passer par la mer. Il veut savoir par où il peut passer pour aller de A à Z en traversant le moins de pays possible.

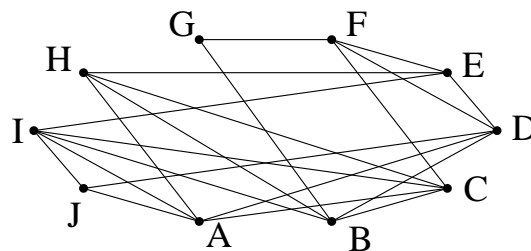
- a) Modéliser le problème en termes de graphes (c'est-à-dire définir le graphe et reformuler la question).
- b) Donner un itinéraire optimal pour le prince, en précisant le nombre de pays par lequel il passe et le nombre de frontières franchies.



Exercices supplémentaires

Exercice 6.

- a) Quelle est la distance entre les sommets A et G dans le graphe ci-contre ?
- b) Préciser tous les plus courts chemins entre A et G .

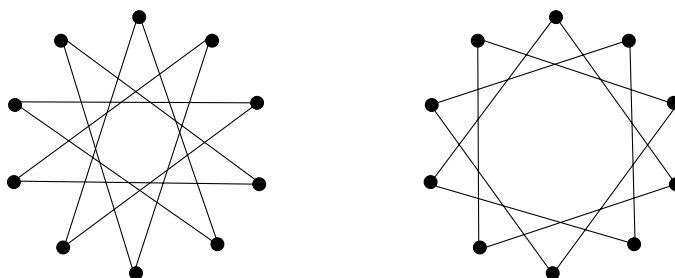


Exercice 7*.

- a) Dans un tout petit pays, il n'y a que 15 villes. On peut aller de chaque ville à au moins 7 autres villes par une autoroute. Montrer que l'on peut se rendre, par autoroute, de la capitale du pays à chacune des autres villes.
- b) A-t-on le même résultat s'il y a 16 villes ?

Exercice 8*. On a 3 seaux A , B , C de contenances respectives 5, 3 et 2 litres. Au départ A est plein et les autres sont vides. On autorise l'opération qui consiste à transvaser le seau X dans le seau Y jusqu'à ce que X soit vide ou Y soit plein. Peut-on arriver de cette façon à ce qu'un des seaux contienne 1 litre ? Peut-on obtenir 2 litres dans le seau A , 2 litres dans le seau B et 1 litre dans le seau C ?

Exercice 9. Les deux graphes suivants sont-ils isomorphes ?



Exercice 10. Un jeu de plage se joue avec 2 cailloux blancs et 3 cailloux noirs. Les 2 joueurs jouent à tour de rôle, selon la règle suivante : à chaque tour on peut soit retirer un seul caillou, soit retirer 2 cailloux de couleurs différentes. Le joueur qui gagne est celui qui ramasse les derniers cailloux.

- a) Représenter tous les enchaînements possibles du jeu à l'aide d'un graphe orienté. Une étape du jeu sera représentée par un couple (i, j) , où i désigne le nombre de cailloux blancs restants et j le nombre de cailloux noirs restants.
- b) Quel est le nombre minimum de coups d'une partie ? Donner un exemple de parties réalisant ce nombre de coups.
- c) Alice et Bob jouent ensemble. Alice commence et retire un caillou blanc et un caillou noir. Bob peut-il gagner ? Si oui, que doit-il jouer pour être sûr de gagner ?

Exercice 11. Un mot binaire est une suite ordonnée de 0 et de 1. Par exemple 010 est un mot binaire de longueur 3. On dit que deux mots binaires de même longueur diffèrent de k caractères si les suites ordonnées ont k termes différents. Par exemple 010 et 110 diffèrent par un seul caractère, alors que 010 et 001 diffèrent par deux caractères.

- a) On considère le graphe dont les sommets sont les mots binaires de longueur 3, dans lequel 2 mots sont reliés par une arête quand ils ne diffèrent que par un seul caractère. Quel est le degré de chaque sommet ? Donner l'ensemble des mots qui ne sont pas voisins de 010.
- b) Il est possible qu'au cours d'une transmission radio, on ait une erreur portant sur un seul caractère. Donner tous les mots m de longueur 3 tel que les mots m et 010 ne peuvent pas être confondus :
 - dans le cas où seul le mot m est transmis,
 - dans le cas où les deux mots m et 010 sont transmis (une erreur de transmission est possible dans chacun des mots).